

Họ và tên học sinh: .....Lớp 3.....

Họ tên người coi:.....	Họ và tên người chấm: .....
	Họ và tên người chấm: .....
<b>Điểm</b>	<b>Nhận xét của giáo viên</b>
	.....
	.....

**I. TRẮC NGHIỆM (4 điểm)** Khoanh vào chữ cái đặt trước câu trả lời đúng.

**Câu 1.** (0,5 điểm) Tích của 7 và 4 là:

- A. 28                                      B. 11                                      C. 20                                      D. 21

**Câu 2.** (0,5 điểm) Số 475 được đọc là:

- A. Bốn bảy lăm                                      B. Bốn trăm bảy mươi lăm  
C. Bốn trăm bảy mươi năm                                      D. Bốn trăm bảy lăm

**Câu 3.** (0,5 điểm) Biết số trừ là 63, hiệu là 25, số bị trừ là:

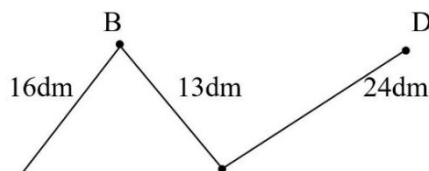
- A. 38                                      B. 39                                      C. 25                                      D. 63

**Câu 4.** (0,5 điểm) Cho dãy số: 70, 63, 56, ..., ..., ..., 28, 21, 14, 7. Các số thích hợp điền vào chỗ chấm lần lượt là:

- A. 54, 48, 30                                      B. 50, 42, 36                                      C. 55, 54, 53                                      D. 49, 42, 35

**Câu 5.** (0,5 điểm) Độ dài đường gấp khúc ABCD là bao nhiêu?

- A. 43 dm                                      B. 53 dm  
C. 33 dm                                      D. 53 cm



**Câu 6.** (0,5 điểm) Trong các hình sau, hình nào có phần đã tô màu bằng  $\frac{1}{4}$  của hình đó?



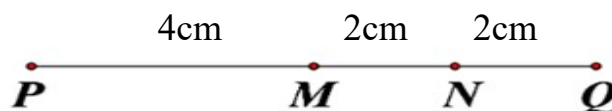
- A. Hình A                                      B. Hình B                                      C. Hình C                                      D. Hình D

**Câu 7.** (0,5 điểm) Nếu thứ Bảy tuần này là ngày 15 tháng 10 thì thứ Năm tuần sau là ngày:

- A. 18 tháng 10                                      B. 20 tháng 10                                      C. 19 tháng 10                                      D. 21 tháng 10

**Câu 8.** (0,5 điểm) Quan sát hình vẽ và khoanh vào chữ cái trước phát biểu đúng:

- A. N là trung điểm đoạn thẳng PQ  
B. M là trung điểm đoạn thẳng PQ  
C. N là trung điểm đoạn thẳng MQ  
D. M là trung điểm đoạn thẳng PN



## II. TỰ LUẬN. (6 điểm)

**Câu 9. (1,5 điểm)** Đặt tính rồi tính:

$$345 + 522$$

$$657 - 365$$

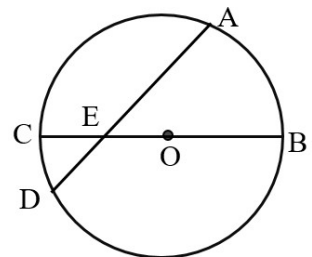
$450 + 25$

[illegible]

**Câu 10.** (1,5 điểm)

Cho hình tròn bên. Điền vào chỗ chấm cho thích hợp.

- a) Tâm của hình tròn đã cho là: .....
- b) Bán kính của hình tròn đã cho là: .....
- c) Đường kính của hình tròn đã cho là : .....



**Câu 11.** (2,0 điểm) Trường Newton TH tổ chức giải bóng đá có sự tham gia của 8 đội bóng với 72 cầu thủ. Hỏi mỗi đội bóng có bao nhiêu cầu thủ?

## Bài giải

[illegible]


**Câu 12.** (1,0 điểm) Có 3 hộp bi: màu xanh, màu đỏ, màu vàng. Hộp bi màu xanh nhiều hơn hộp bi màu đỏ 7 viên, hộp màu đỏ ít hơn hộp bi màu vàng 2 viên. Hỏi hộp bi màu xanh nhiều hơn hộp bi màu vàng bao nhiêu viên bi?

Trả lời: .....

## HƯỚNG DẪN CHẤM BÀI MÔN TOÁN – LỚP 3, THÁNG 10.

### I. Trắc nghiệm (4 điểm)

Câu	1	2	3	4	5	6	7	8
Đáp án	A	B	A	D	A	D	B	B,C
Điểm	0,5	0,5	0,5	0,5	0,5	0,5	0,5	0,5

### II. Tự luận (6 điểm)

**Câu 9.** (1,5 điểm) Mỗi phép tính đúng 0,5 điểm.

**Câu 10** (1,5 điểm)

a) O	0,25 điểm
b) OB, OC	0,5 điểm
c) BC	0,25 điểm

**Câu 11.** (2,0 điểm)

Mỗi đội bóng có số cầu thủ là:	0,5 điểm
$72 : 8 = 9$ (cầu thủ)	1,0 điểm
Đáp số: 9 cầu thủ	0,5 điểm

**Câu 12.** (1 điểm) 5 viên bi.